

ВСЕРОССИЙСКАЯ ОЛИМПИАДА ШКОЛЬНИКОВ
ПО ИСТОРИИ. ШКОЛЬНЫЙ ЭТАП. 10 КЛАСС.

Код: 10013

Олимпиадная работа

школьного этапа всероссийской олимпиады школьников

по Истории
обучающегося 10а класса

Муниципального бюджетного общеобразовательного учреждения
казачья средняя общеобразовательная школа №19
г. Пятигорска Ставропольского края

ФИО

(полностью)

Лозариков Владимир Владимирович.

Педагог-наставник:
МБОУ КСОШ №19

Нешева Елена Николаевна.
ФИО учителя

ВСЕРОССИЙСКАЯ ОЛИМПИАДА ШКОЛЬНИКОВ
ПО ИСТОРИИ. ШКОЛЬНЫЙ ЭТАП. 10 КЛАСС.

Задание № 1. В заданиях 1–5 дайте один верный ответ. Ответ внесите в таблицу (2 балла за каждый правильный ответ, максимальный балл – 10):

48

1. Какое из перечисленных княжений никогда не занимал Александр Невский?
 - 1) Киевское
 - 2) Владимирское (на Клязьме)
 - 3) Галицко-Волынское
 - 4) Новгородское
2. В каком году произошло описанное С.М. Соловьёвым событие? «Между тем великого князя привезли в Москву на ночь 14 февраля и посадили на дворе Шемякине; 16 числа на ночь ослепили и сослали в Углич вместе с женою, а мать, великую княгиню Софью Витовтовну, отослали на Чухлому».
 - 1) 1425 г.
 - 2) 1446 г.
 - 3) 1448 г.
 - 4) 1453 г.
3. Главным итогом русско-литовской войны 1512–1522 годов стало возвращение России
 - 1) Чернигова
 - 2) Киева
 - 3) Смоленска
 - 4) Пскова
4. Становление крепостного права в Русском государстве началось с издания:
 - 1) «Правды Ярославичей»;
 - 2) Судебника 1550 г.;
 - 3) Судебника 1497 г.
 - 4) Соборного уложения 1649 г.
5. Первое столкновение русских с монголо-татарами произошло в районе реки:
 - 1) Оки;
 - 2) Вожи;
 - 3) Уфы;
 - 4) Калки.

1	2	3	4	5
4	3	3	3	3

105

Задание № 2. Соотнесите элементы правого и левого столбцов таблицы (максимальный балл – 10).

2.1 (5 баллов)

Содержание документа	Название
А) определение порядка прохождения службы дворянами	1. Манифест о вольности дворянской
Б) освобождение дворян от обязательной службы	2. Табель о рангах
В) введение положения об охране главы государства, здоровья и чести царя	3. Соборное Уложение 1649
Г) ограничение свободы перехода крестьян к другому владельцу юрьевым днем	4. Духовный регламент
Д) юридический документ, определявший правовой статус церкви	5. Судебник 1497

Ответы занесите в таблицу:

А	Б	В	Г	Д
2	1	3	5	4

2.2 (5 баллов)

Деятели культуры	Произведения
А) А. Захаров	1. Зимний дворец в Санкт-Петербурге
Б) К. Росси	2. Генеральный штаб в Санкт-Петербурге
В) В. Растрелли	3. Здание Адмиралтейства
Г) О. Бове	4. Большой театр в Москве
Д) О. Монферран	5. Исаакиевский собор в Санкт-Петербурге

Ответы занесите в таблицу

А	Б	В	Г	Д
3	2	1	4	5

Задание №3. Ниже в таблице приведены различные предметы мужской и женской одежды из прошлых эпох. Сопоставьте названия предметов одежды и их значение. Каждому предмету одежды должна соответствовать цифра, под которой помещено описание предмета одежды (1, 2, 3 ...). Ответ оформите в виде таблицы. (максимальный балл – 10).

Слова:	Устаревшие значения
Амазонка	10
Боливар	9 ↓
Горлатная шапка	8 ↓
Камзол	2 ↓
Капот	7 ↓
Кюлоты	6 ↓
Понёва	1
Шлафрок	5
Кибитка	4
Роба (роброн)	3

№ 1. Женское платье с широкой юбкой в форме колокола.

№ 2. Мужская одежда с длинными узкими рукавами, которую поддевали в XVIII в. под кафтан.

№ 3. Халат.

№ 4. Дамский костюм для верховой езды.

№ 5. Женский головной убор с широкими полями, закрывавшими лицо по сторонам.

№ 6. Короткие, до колен, штаны, которые в XVIII в. носили преимущественно дворяне.

№ 7. Свободное женское платье.

№ 8. Головной убор знатного человека в виде расширявшегося кверху высокого цилиндра из меха, снятого с горла куницы или чернобурой лисицы.

№ 9. Мужской головной убор: шляпа-цилиндр с широким полями.

№ 10. Крестьянская юбка.

4. Заполните пробелы в тексте. Ответ оформите в виде таблицы (1 балл за каждый правильно заполненный пропуск, максимальный балл – 10).


0 Приход к власти большевиков в октябре 1917 г. ознаменовал начало радикальных социально-экономических преобразований в стране. Одним из первых декретов советской власти был _____ (1) _____, коренным образом изменивший экономические отношения в советской деревне. В финансовой сфере и в промышленности была проведена национализация, банки, заводы и фабрики стали собственностью пролетарского государства. Гражданская война, охватившая большую часть территории бывшей Российской империи, заставила советское правительство пойти по пути радикализации экономической политики и ввести комплекс мероприятий, получивших название _____ (2) _____. Последствия гражданской войны были опустошительными, и для того, чтобы вывести хозяйство из кризиса В.И. Ленин объявил о начале _____ (3) _____. _____ (4) _____ в деревне была заменена _____ (5) _____, крупные и средние промышленные предприятия сдавались в _____ (6) _____. Ко второй половине 1920-х гг. экономика СССР была в целом восстановлена, и встал вопрос о выборе путей экономического развития. В условиях нарастания угрозы новой мировой войны был избран вариант _____ (7) _____, который сопровождался усилением экономического и политического нажима на деревню. Обобществление крестьянских хозяйств и их объединение в колхозы сопровождалось политическими репрессиями - _____ (8) _____. К началу Великой Отечественной войны СССР имел собственную промышленность, что помогло ему выстоять в ожесточенной схватке с нацизмом. После смерти И.В. Сталина новый политический лидер СССР _____ (9) _____ взял курс на экономические реформы. Одной из задач, стоявших перед страной, был подъем сельского хозяйства и налаживание производства товаров повседневного спроса. Эффект от реформ был кратковременным. Уже в 1970-е гг. в экономике СССР стали нарастать кризисные явления. Тяжелым бременем на народное хозяйство легла гонка вооружений, которая привела к гипертрофированному развитию военно-промышленного комплекса. В середине 1980-х гг. экономические и внутрисполитические проблемы СССР убедили нового лидера страны _____ (10) _____ начать перестройку.

№ вопроса	Вставка
1.	
2.	
3.	
4.	
5.	
6.	
7.	коллективизация.
8.	
9.	Маленков Г.М.
10.	Горбачев.

Задание № 5. Работа с иллюстративным материалом. Максимальный балл – 10.

5.1 Изображения каких исторических деятелей представлены ниже? Укажите

- 105
- 1) их фамилии (1 балл)
 - 2) сферу их деятельности (3 балла)
 - 3) примерное время их деятельности. (1 балл)
- (максимальный балл – 5).




5.1	В.В. Кривошов. Военный и политический деятель.
5.2	А. Сахаров. Создатель первой советской бомбы.

- 5.2 Применительно к каждой представленной ниже картине укажите:
- 1) ее название (2 балла),
 - 2) художника (2 балла),
 - 3) время создания, с точностью до половины столетия (1 балл).
- (максимальный балл – 5).

Ответ оформите в виде таблицы.

	№1	№2
Название		
Художник		
Время создания		






6. Применительно к каждому изображенному ниже памятнику укажите
- 1) его название (2 балла),
 - 2) место расположения, город (1 балл),
 - 3) архитектора (1 балл),
 - 4) время создания (с точностью до половины столетия) постройки памятника. (1 балл).

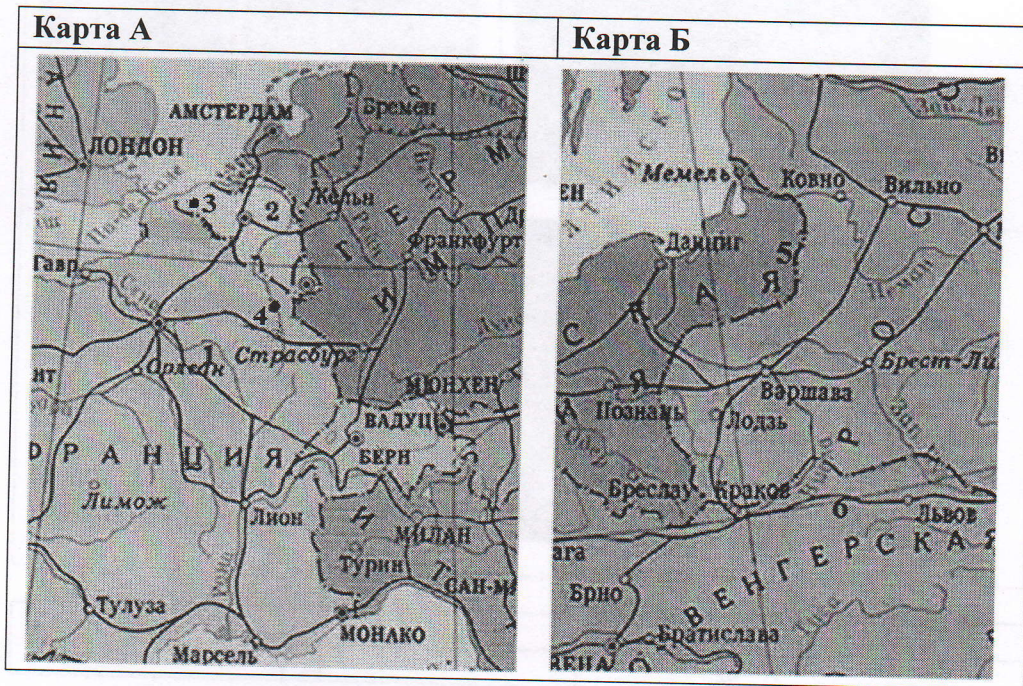
Максимальный балл – 10.

Ответ оформите в виде таблицы.

	№1	№2
Название		
Место расположения		
Архитектор		
Время создания		



Задание № 7. Выполните задания по картам "Первая мировая война"
(2 балла за каждый ответ, максимальный балл –10)



Задания к карте А

1. Укажите название реки (на карте обозначена цифрой 1), где в 1914 году развернулось сражение между Францией и Германией.

2. Под цифрой 2 на карте обозначено государство, которое заявило о своем нейтралитете в начале войны. Несмотря на это, Германия начала наступление на Францию именно через территорию этой страны. Укажите название этого государства.

2

Бельгия

3. На территории страны, которая на карте обозначена под цифрой 2, в 1915 году произошло сражение, в ходе которого германскими войсками была проведена газобалонная атака. Укажите название города, где произошло данное событие (на карте обозначен цифрой 3).

2

Ипр

4. Под цифрой 4 на карте обозначен город, близ которого в 1916 году произошло одно из самых кровопролитных сражений Первой мировой войны. Укажите название города.

Задания к карте Б

5. Под цифрами 5 и 6 на карте обозначены территории, где развернулись военные операции Восточного фронта. Укажите названия этих операций.

0

Задание 8.

Перед Вами – архитектурные сооружения, установите стили, определите, какие из них относятся к классицизму, а какие – к «нарышкинскому барокко». Ответ оформите в виде таблицы (10 баллов)

Lined area for writing answers.

Результаты работы учащегося

Сводная оценочная таблица.

№ задания	1	2	3	4	5	6	7	8	9	10	Всего
Мах балл	10	10	10	10	10	10	10	10	10	10	100
Балл учащегося	4	10	5	0	10	0	4	10	9	0	52