

1. Составьте карту для классика, проводимого в Дворце Губернатора:
А – традиционные игры
Б – современные игры
В – настольные игры
Г – спортивные игры
2. Проведите физкультуру, если бы стали участниками изобретателя
А – направление игры
Б – система игры
В – тактическая комбинация
Г – техническая комбинация
3. Составьте задания с выделением приращений в каком-либо виде спорта по системе:
А – олимпийская
Б – круговая
В – смешанная
Г – позиционная
7. Составьте препятствия на пути марафонца, блокировкой руками брассом
спринтера в беге трусцой выхватывая:
А – препятствия
Б – тактику
В – маршрут

Олимпиадная работа
школьного этапа всероссийской олимпиады школьников
по физической культуре
обучающегося 9В класса
Муниципального бюджетного общеобразовательного учреждения
казачья средняя общеобразовательная школа №19
г. Пятигорска Ставропольского края

ФИО
(полностью)

Винникова Анна Семёновна

Педагог-наставник:
МБОУ КСОШ №19

Лобзинцева А.З.
ФИО учителя

28 сентября 2019 года

Теоретические задания
на школьный этап олимпиады по физической культуре для 9-11 классов
в 2019-2020 учебном году

1. Специальные игры для женщин, проводимые в Древней Греции назывались:
 А – Панафинейские игры
 Б – Немейские игры
 В – Истмийские игры
 Г – Герийские игры
2. Древнегреческий философ, дважды становившийся победителем Олимпийских игр, является:
 А – Аристотель
 Б – Платон
 В – Сократ
 Г – Демокрит
3. В антропологических исследованиях система измерений линейных размеров и других физических характеристик тела человека (рост, вес, окружность и т.п.) является:
 А – антропоскопия
 Б – атропометрия
 В – физиометрия
 Г – гониометрия
4. Этапы обучения технике двигательного действия. Назовите последовательность.
3 А – совершенствование
1 Б – ознакомление
4 В – закрепление
2 Г – разучивание
5. Групповое действие для игроков называется:
 А – направленность игры
 Б – система игры
 В – тактическая комбинация
 Г – техническая комбинация
6. Соревнования с выбыванием проигравших в каждом туре производится по системе:
 А – олимпийская
 Б – круговая
 В – смешанная
 Г – позиционная
7. Создание препятствий на пути мяча блокировкой руками броска соперника в баскетболе называется:
 А – прессинг
 Б – контратака
 В – блокшот



- Г - заслон
8. Блок в волейболе может быть:
А – лобовым или атакующим
Б щадящим или усиленным
В – обманным или прямолинейным
1 Г – одиночным или групповым
9. В спортивных играх, обманное движение называется:
А – манипуляция
0 Б – обводка
В – маневр
Г – финт
10. Игровая функция каждого игрока в команде называется:
0 А – роль
Б – амплуа
В – должность
Г – место

Завершите утверждения, вписав соответствующее слово в бланк ответов


11. Прибор, способный измерять интервалы времени с точностью до долей называется секундомер 1
12. Способ перемещения баскетбольного мяча по игровому полю называется ведение 1
13. Обжалование решения судьи в вышестоящий судейский орган в форме протеста называется апелляция 1

Изобразите положения гимнаста, с помощью пиктограмм

14. Упор сидя сзади углом:



15. Упор стоя согнувшись:



7 5